

Шифр А-11
Ставропольский край
Первый школьный этап Всероссийской олимпиады школьников
2020-2021 учебного года

Работа по МХК
ученика(цы) 11 класса
МОУ СОШ №14
пос.Краснозоринского
Новоалександровского района
Ахмедшиной Арины

Учитель МХК: Козлова Т.Н.

24 сентября 2020 года

Искусство (Мировая художественная культура)
Всероссийская олимпиада школьников 2020-2021 учебный год
школьный этап

11 класс.

Аудиторное выполнение олимпиадных заданий
(Максимальное количество баллов за все задания – 100)
Время выполнения – 4 часа (астрономических)

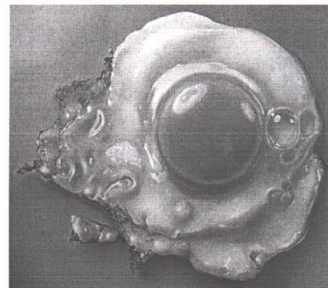
100
Задание 1. Перед вами несколько картин разных художников. Напишите, какому художественному направлению принадлежат эти работы; дайте этому направлению краткую характеристику. (Максимальная оценка за задание №1 - 10 баллов).



натюрморт.



портрет



натюра

125
Задание 2. Перед вами удивительно красивый храм. Опишите его. Если узнали данное сооружение, укажите его название, автора, архитектурный стиль, месторасположение и время создания. Расширьте свой ответ дополнительной информацией.



Задание 2.

Павловско-парковый ансамбль Александрия в Петербурге - это место, где летом отдыхали четыре поколения династии Романовых. С 1830-1917 годы комплекс считался официальной резиденцией императора. В целом, ансамбль задумывался как личное пространство для императорской семьи. (1883 г.)


Задание 3. Определите произведения по фрагменту.

(125)


1. Напишите названия трёх работ.
2. Укажите имя их автора, страну и время, когда работал художник.
3. Напишите, по каким характерным признакам манеры письма вы узнаете автора.
4. Укажите известные работы этого же художника.
5. Назовите черты, характерные для этого периода развития искусства.
6. Расширьте свой ответ дополнительной информацией в рамках данной темы.



1.



2.



3.

Задание 4. Рассмотрите картину. Если узнали произведение, напишите его название, автора, страну, эпоху и время создания. Анализируя, опишите картину и оформите свои рассуждения в виде литературного текста.

(126)



Задание 3.


- а) 1. Василий "Мертвы".
2. Василий Филитриевич Яковлев, 1894 г.
3. Работа отличается свежестью, полупрозрачными тонами, необыкновенной чистотой, простой композицией.
4. "Фривья Окуньва гора", "Туженот", "Воскрешение дочери Иаира", "Березы и папоротники", "Блудной сын", "Фир блудного сына".
- б) 1. "Кресте и грешница".
2. Василий Филитриевич Яковлев, 1885 г.
- в) "Возвещена радость плочущим", 1899 - 1909 г.

Задание 4.

"Станчик при дворе королевы Боны после потери Смоленска" - картина в стиле академизма польского художника Яна Матейко, на которой изображён исторический персонаж королевский шут Станчик и показана его реакция на сдачу Смоленской крепости Великому княжеству Московскому. Желтою написано в 1862 г. и представляет собой живопись маслом на холсте размером 88x120 см. В настоящее время хранится в Национальном музее в Варшаве.

Задание 5. Определите произведения искусства и заполните таблицу:

100



№	Автор	Название	Время создания	Страна	Дополнительные сведения
1.	Михайловский П.	Боярышня	1870	Польша	
2.	Анжело Манна	Жена по дороге	1887	Германия	
3.	Брунелло	Портрет Н.И. Фрунзе	1832	Россия	
4.	Серд	Портрет Николая II	1900	Россия	
5.	Анжело Манна	Жена по дороге	1887	Германия	
6.	Скитиньо Ка	Каюи Манде	1796	Италия	

Задание 6. Вам представлены фрагменты из разных художественных фильмов. Определите их и заполните таблицу.


100

Название фильма	Режиссёр	Фамилии актёров, представленных в данном эпизоде

1.	Земля Санникова	Иванов Генд, Александр С.	Верещагин, Давы, Козлов
2.	Чужие	Валентин Соколов, Хайт	Средобайте, Киселевич
3.	Вам и не снилось	Илья Шкоз	Аксютин, Михайловский
4.	Дело елисе пустыни	Владимир Момбиль	Курочкин Савицкий Минин
5.	Иное в небе не считая ^{свака}	Николай Бирман	Шерман, Мельников
6.			
7.	"Покорение земли за минуту"	Степанов	Кривоносов
8.	Остров	Лукин	
9.	Белы	Машинин Корсаков	Макс. Славцев
10.	Эксп 2	Киселев, Комм, Баранов	Венюков, Хайт




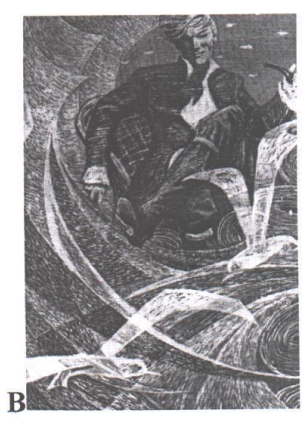



f-11



65


Задание 7. Даны четыре портрета и ряд изображений. Определите, кто изображён на каждом из портретов. Соотнесите изображения с портретами № 2,3,4. Объясните принцип группировки. Заполните таблицу и напишите к ней краткое пояснение.

A-11





Ж



З



И


Портрет	Имя и фамилия	Буквы изображений	Принцип группировки
№2	Сервантес	Б, В, З	
№3	Ибсен	А, Д, Ж	
№4	Цикл	В, Г, Д	

Краткое пояснение:

Задание 8. Дан ряд архитектурных сооружений. Что их объединяет? Напишите краткий комментарий-впечатление. Если вам знакомы эти строения, напишите, как они называются и где расположены.

40

Аван-Детинков - СССР




1

Кубань рай, Тамбов А-11



2


Кокшетау, СССР




3



4




5



6



7



8

465.

Председатель: *Лоб* / *Байрамова М.Н.*
 Члены: *Кожу* / *Кожуова Т.Н.*
 Секретарь: *Нали* / *Норбуевено Т.Т.*